

VÄRLDEN PÅ KARTAN



Till läraren

Världen på kartan riktar sig mot det centrala innehållet "Geografins metoder, begrepp och arbetssätt" i ämnet geografi i Lgr11. Framförallt passar materialet för åk 7-9 då världsdelarna är ett av områdena i läroplanen. Pärmens innehåller kartor över världsdelarna och några av de största länderna i varje världsdel. Europas kartor finns utgivna i separat pärm, varför dessa har utelämnats i denna.

Materialet får kopieras fritt för användning på den egna skolan. Du får naturligtvis komplettera eller ändra i läromedlet, för att på så vis anpassa det till ditt sätt att undervisa.

Läromedlet kan användas på flera olika sätt. Genom att maskera delar av kartbladen i samband med kopieringen kan Du bland annat:

- låta eleverna sammankoppla de geografiska namnen med motsvarande numrering på kartan.
- träna namngeografi genom att eleverna antecknar de rätta geografiska namnen på raderna invid kartan.
- mäta avstånd, ange riktningar etc.
- låta eleverna själva ta reda på fakta om de olika länderna och därefter skriva in dem i faktabladen.

Om du lägger kartbladen i en plastficka före kopieringen, kan du göra egna tillägg på dem. Använder du vattenlöslig tuschpenna, är det lätt att torka bort eller ändra tilläggen.

Landområdeskartorna

Till respektive kartbild finns också ett kartblad i större skala. De lämpar sig bra som underlag för elevernas egna arbeten.

I pärmens finns också faktablad som kan kopieras och därefter fyllas i med lämpliga fakta av Dig och/eller dina elever.

De geografiska namnen har samlats i grupper.

Städer: Numrerade på kartan.

Vatten: Som vatten räknas hav, älvar, floder och insjöar.

Öar: omfattar också halvöar.

Berg och bergskedjor.

Angränsande länder: Tecknet för nationsgräns är 

I samma serie finns även:

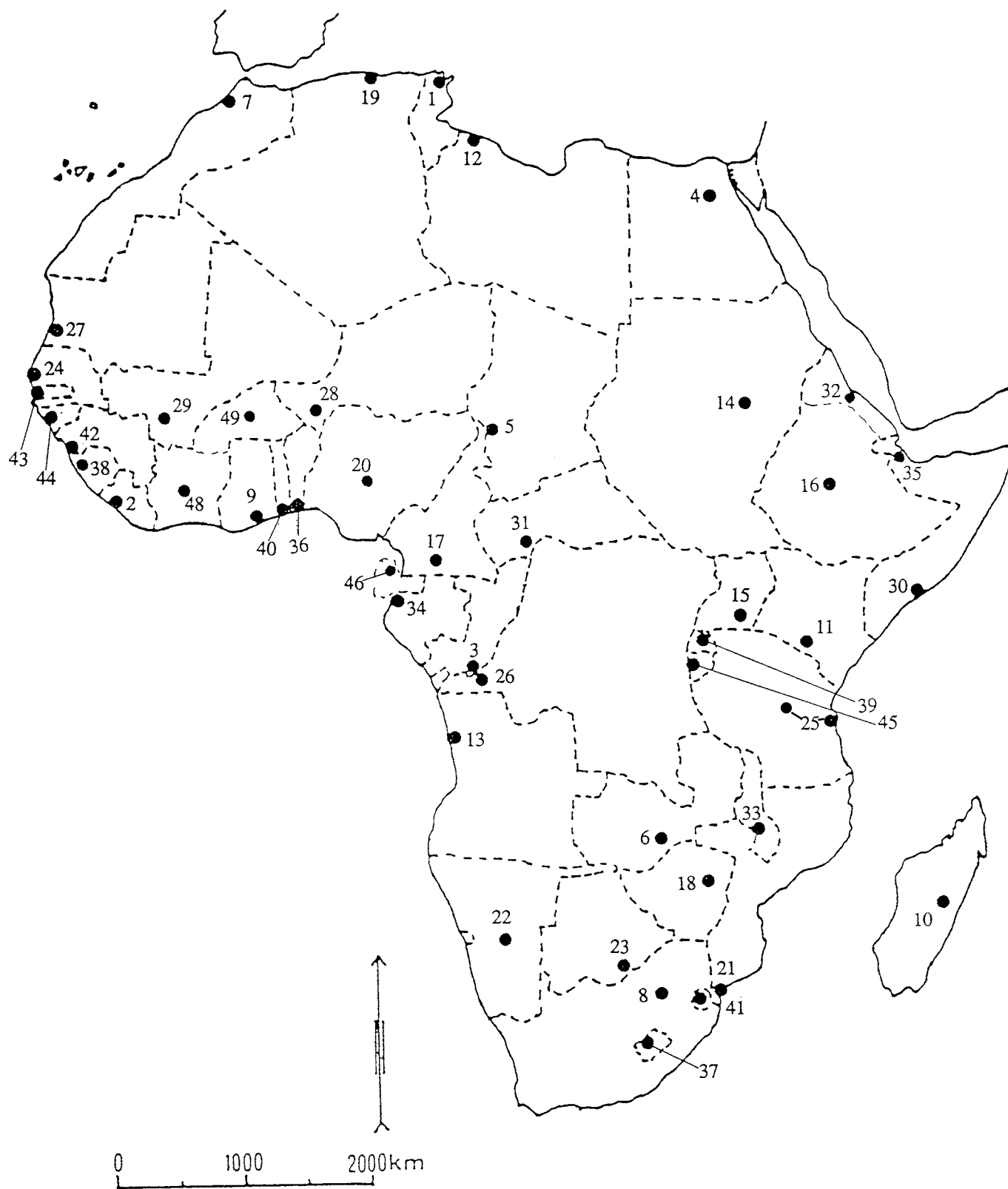
SVERIGE PÅ KARTAN

ISBN 978-91-7762-577-3

EUROPA PÅ KARTAN

ISBN 978-91-7762-578-0

Huvudstäder i Afrika

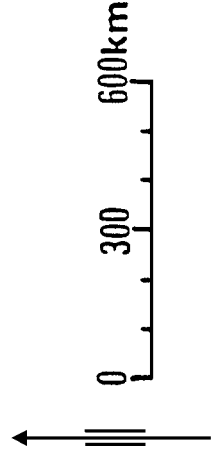
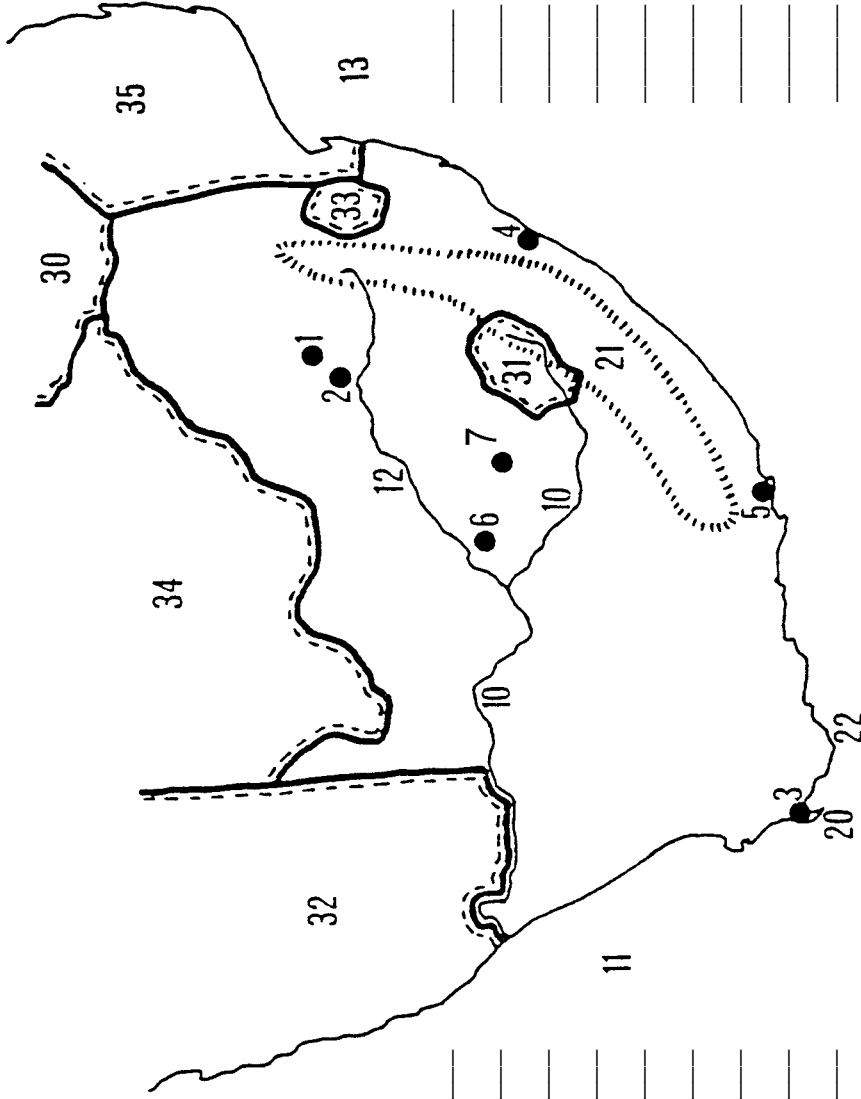


Forts. sid 10a

Huvudstäder i Afrika (se karta sid 10)

Kairo	4	_____	Kairo	4
Pretoria	8	_____	Pretoria	8
Addis Abeba	16	_____	Addis Abeba	16
Rabat	7	_____	Rabat	7
Abuja	20	_____	Abuja	20
Tripoli	12	_____	Tripoli	12
Kinshasa	26	_____	Kinshasa	26
Windhoek	22	_____	Windhoek	22
Khartoum	14	_____	Khartoum	14
Bamako	29	_____	Bamako	29
Dodoma o Dar-es-Salaam	25	_____	Dodoma o Dar-es-Salaam	25
Alger	19	_____	Alger	19
Brazzaville	3	_____	Brazzaville	3
Nairobi	11	_____	Nairobi	11
Maputo	21	_____	Maputo	21
Accra	9	_____	Accra	9
Gaborone	23	_____	Gaborone	23
Bangui	31	_____	Bangui	31
Harare	18	_____	Harare	18
Antananarivo	10	_____	Antananarivo	10
Lusaka	6	_____	Lusaka	6
Nouakchott	27	_____	Nouakchott	27
Yaoundé	17	_____	Yaoundé	17
Kampala	15	_____	Kampala	15
Luanda	13	_____	Luanda	13
Niamey	28	_____	Niamey	28
Ndjamena	5	_____	Ndjamena	5
Dakar	24	_____	Dakar	24
Tunis	1	_____	Tunis	1
Monrovia	2	_____	Monrovia	2
Mogadishu	30	_____	Mogadishu	30
Asmara	32	_____	Asmara	32
Yamassoukro	48	_____	Yamassoukro	48
Lomé	40	_____	Lomé	40
Conakry	42	_____	Conakry	42
Libreville	34	_____	Libreville	34
Porto Novo	36	_____	Porto Novo	36
Ouagadougou	49	_____	Ouagadougou	49
Lilongwe	33	_____	Lilongwe	33
Maseru	37	_____	Maseru	37
Bissau	44	_____	Bissau	44
Malabo	46	_____	Malabo	46
Bujumbura	45	_____	Bujumbura	45
Banjul	43	_____	Banjul	43
Kigali	39	_____	Kigali	39
Djibouti	35	_____	Djibouti	35
Mbabane	41	_____	Mbabane	41
Freetown	38	_____	Freetown	38

Sydafrika



Johannesburg	2	_____	Johannesburg	2
Pretoria	1	_____	Pretoria	1
Kapstaden	3	_____	Kapstaden	3
Port Elizabeth	5	_____	Port Elizabeth	5
Durban	4	_____	Durban	4
Kimberly	6	_____	Kimberly	6
Bloemfontein	7	_____	Bloemfontein	7
Oranje	10	_____	Oranje	10
Vaal	12	_____	Vaal	12
Indiska oceanen	13	_____	Indiska oceanen	13
Atlanten	11	_____	Atlanten	11
Godahoppsudden	20	_____	Godahoppsudden	20
Kap Agulhas	22	_____	Kap Agulhas	22
Drakbergen	21	_____	Drakbergen	21
Botswana	34	_____	Botswana	34
Namibia	32	_____	Namibia	32
Zimbabwe	30	_____	Zimbabwe	30
Mocambique	35	_____	Mocambique	35
Lesotho	31	_____	Lesotho	31
Swaziland	33	_____	Swaziland	33