

Innehållsförteckning

Analog klocka

Urtavlan	3
Timvisaren	4
Hel	5
Halv	6
Kvart över och kvart i	7
Tio över och tio i	8
Tjugo över och tjugo i	9
Fem över och fem i	10
Fem i halv och fem över halv	11

Hel, halv, kvart över och kvart i

Med siffror	12
Utan siffror	14

Blandade tider

Med siffror	16
Utan siffror	18

Digitala klockslag

Hel och halv	20
Kvart över och kvart i	21
Tio över och tio i	22
Tjugo över och tjugo i	23
Fem över och fem i	24
Fem i halv och fem över halv	25

Analog och digital tid

Urtavlan	26
Hel, halv, kvart över och kvart i	
Före tolv	27
Efter tolv	28
Dygnet runt	29

Blandade tider

Före tolv	30
Efter tolv	31
Dygnet runt	32

Räkna på tid

Timmar, halvtimmar och kvartar	
Vad är klockan om... ..	33
Rita hur visarna stod för... ..	35
Hur långt har det gått mellan klockslagen?	37


Blandade tider

Vad är klockan om... ..	39
Rita hur visarna stod för... ..	43
Hur långt har det gått mellan klockslagen?	45


Begrepp

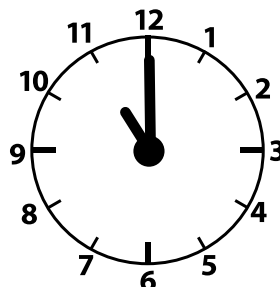
Sekund	47
Minut	48
Timme	49
Dygn	50
Vecka	51
Månad	52
	53


tio

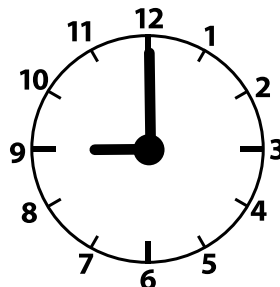



Vad är klockan?


















Rita visarna!

Klockan är tre.

Klockan är tolv.

Klockan är fem.

Klockan är två.

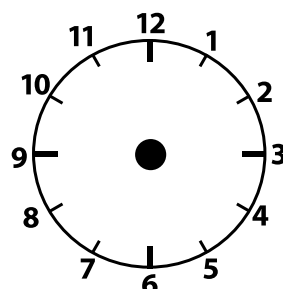
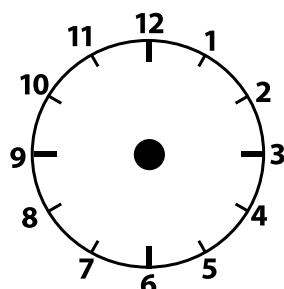
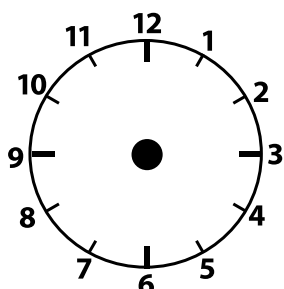
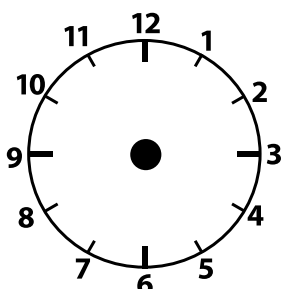


Klockan är nio.

Klockan är tio.

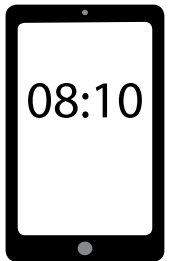
Klockan är sex.

Klockan är elva.

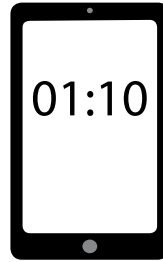


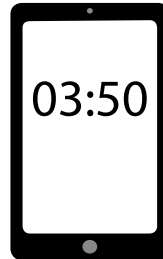
TIO ÖVER OCH TIO I

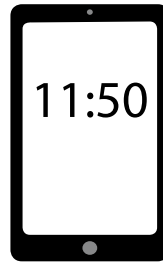
tio över åtta



Vad är klockan?







Skriv siffrorna!

Tio i ett.

□	□	:	□	□
---	---	---	---	---

Tio över fem.

□	□	:	□	□
---	---	---	---	---

Tio i fyra.

□	□	:	□	□
---	---	---	---	---

Tio över åtta.

□	□	:	□	□
---	---	---	---	---

Tio i elva.

□	□	:	□	□
---	---	---	---	---

Tio över sex.

□	□	:	□	□
---	---	---	---	---

Tio i tre.

□	□	:	□	□
---	---	---	---	---

Tio över sju.

□	□	:	□	□
---	---	---	---	---

Tio i fem.

□	□	:	□	□
---	---	---	---	---


RÄKNA PÅ TID

BLANDADE TIDER

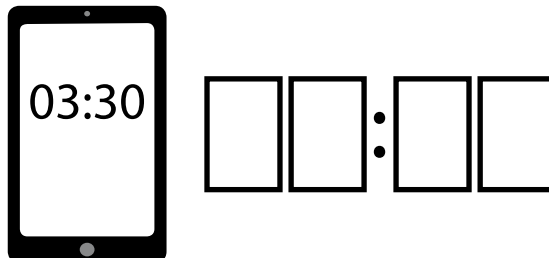


Skriv den digitala tiden för...

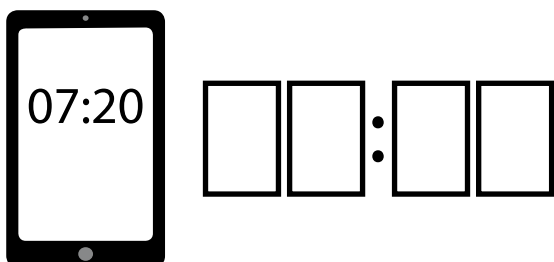
tio minuter sedan



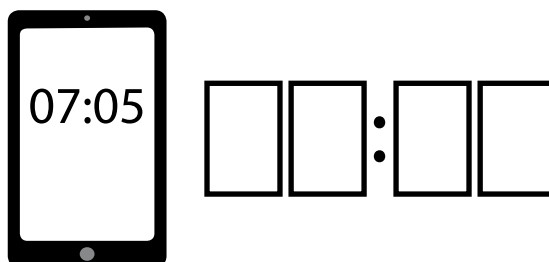
fem timmar sedan



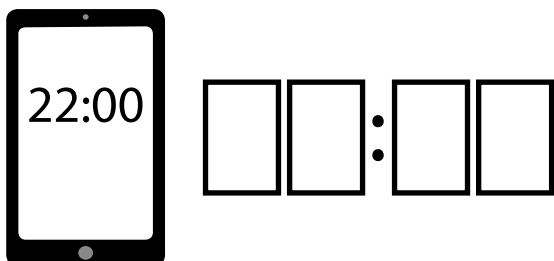
femtio minuter sedan



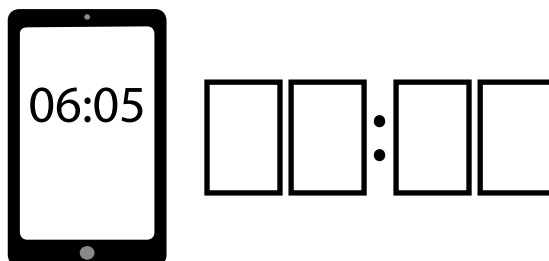
fem minuter sedan



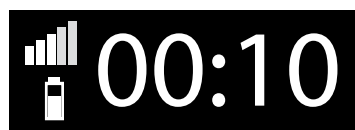
en kvart sedan



tio timmar sedan



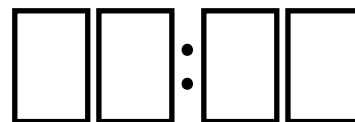
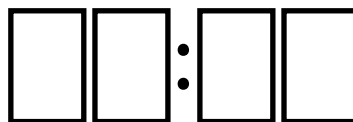
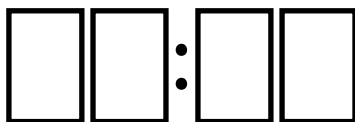
en halvtimme sedan



en kvart sedan



tio minuter sedan



femtiofem minuter sedan



fyrtyio minuter sedan



tre kvart sedan

